




GUÍA DE APRENDIZAJE N° 3 Historia Geografía y Ciencias Sociales

NOMBRE:	
FECHA: 18 al 22 de Mayo	Unidad 1
CURSO: 4to. Año básico	
OA8: Describir distintos paisajes del continente americano, considerando climas, ríos, población, idiomas, países y grandes ciudades, entre otros, y utilizando vocabulario geográfico adecuado.	
CORREO: Lorena.sanhueza@colegiomontesion.cl . Si tienes alguna duda con la materia escribe a mi correo	

CLASE 1
CONTENIDO: Climas de america
OBJETIVO DE LA CLASE: Reconocer y describir distintos climas del continente Americano.
HORAS PEDAGÓGICAS: 2 hp

MATERIALES NECESARIOS: Antes de comenzar la clase, procura tener los siguientes materiales
--

Cuaderno de trabajo APTUS Libro Aptus Pag. 21 a la 23 		Cuaderno de Historia 
--	--	---

<https://www.youtube.com/watch?v=jD88dCaIFDI>

Actividad 1:

En tu cuaderno de Historia escribe la fecha, el objetivo de esta clase.

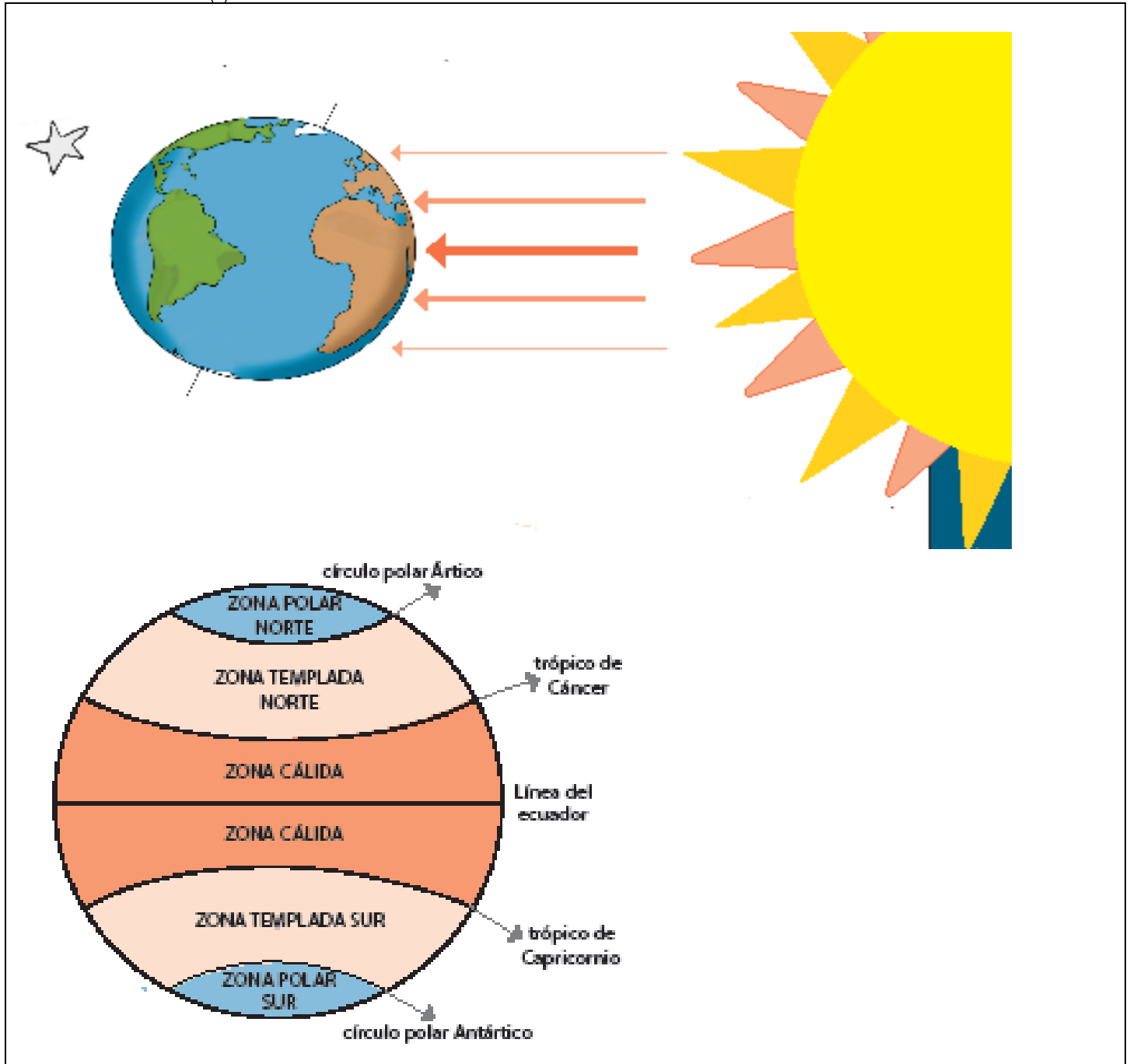
Lee atentamente los siguientes textos relacionados con el clima, luego realiza la siguientes actividad:

La importancia de la posición geográfica en el planeta

El entorno geográfico varía radicalmente de un lugar a otro dependiendo de su ubicación. No es lo mismo vivir cerca de los polos que cerca de la línea de ecuador. ¿Por qué?

La Tierra en relación al Sol

Los rayos de Sol llegan a los distintos lugares del planeta de forma diferente. Al centro, en la línea del ecuador, los rayos llegan de manera directa. En cambio, en la medida en que se avanza hacia el Norte o hacia el Sur, los rayos no pueden llegar tan directamente porque la Tierra es esférica. La curvatura de nuestro planeta hace que los rayos de Sol no lleguen de manera uniforme a toda la Tierra.



Podés observam el siguiente video que te aclara los diferentes climas en el mundo


<https://www.youtube.com/watch?v=jD88dCaIFDI>

Observa el mapa con sus divisiones según la zona climática que le corresponde: Zona Fría, Templada y calida.


Mapa climático de América



Zona Fria




Zona Templada




Zona Calida



Zona Calida



Zona Templada



Zona Fria

Climas templados

Predominan en las zonas templadas del norte y del sur. En ellos las estaciones del año presentan diferencias marcadas, presentando temperaturas moderadas durante gran parte del año.

Climas cálidos o tropicales

Presentes principalmente al interior de la zona cálida. Se caracteriza por sus altas temperaturas y abundantes precipitaciones

Climas áridos y secos

Se ubican en general en torno a los trópicos. Se caracterizan por las escasas precipitaciones y por las grandes diferencias de temperatura durante el día y la noche

Climas fríos

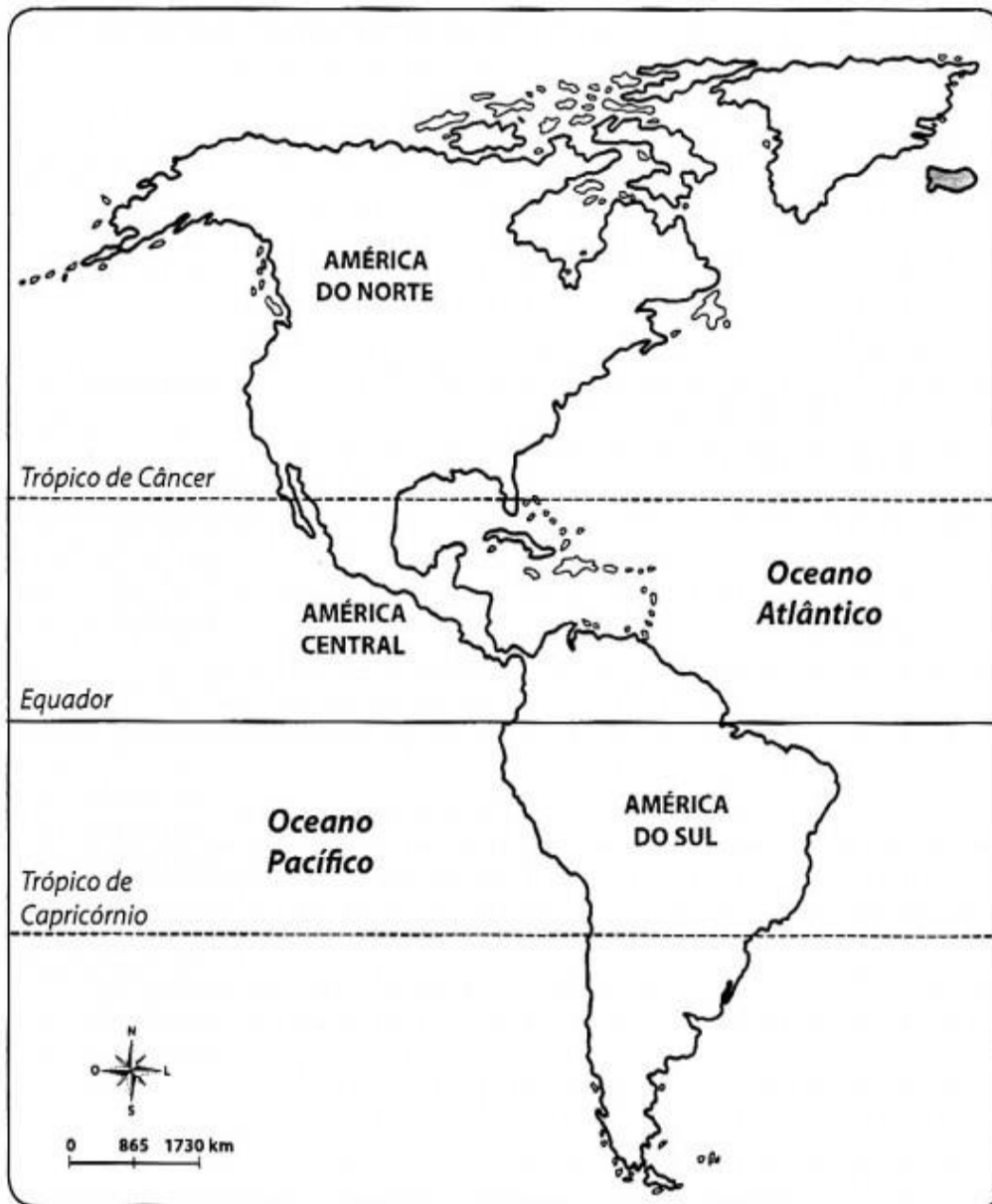
Se encuentran en la zona fría del norte y en las cercanías de la zona fría del sur. Se caracterizan por las bajas temperaturas y por las precipitaciones, habitualmente, en forma de nieve.

Actividad 2 **Pagina 23 libro Aptus**

Observa atentamente el mapa del continente americano y realiza la siguiente actividad:

- Identifica y nombra las distintas zonas climáticas de América
- Sepáralas con las líneas que correspondan.
- Pinta con diferentes colores cada una de ellas.

Continente Americano



¿Hacemos una Pausa.?

**ENCUENTRA LAS DOS FIGURAS
IDÉNTICAS**

FILA 1

1 2 3 4

FILA 2

5 6 7 8 9

FILA 3

10 11 12 13 14



www.neurocienciasyterapia.com

CLASE 2

CONTENIDO: Climas de america

OBJETIVO DE LA CLASE: Reconocer y describir distintos climas del continente Americano.

HORAS PEDAGÓGICAS: 1 hp

Actividad 3

Observa los siguientes paisajes. Luego, indica a qué clima corresponden.: (Calido, desetico, frío, templado)





Actividad 4

¿Qué aprendiste hoy?

Observa los paisajes. Luego, señala a qué zona climática pertenecen cada uno de ellos y cuáles son sus principales características: Responde en tu cuaderno de Historia..



Polar:



Selva:



Mediterraneo:

Actividad 5:

Lee atentamente el texto sobre el Combate Naval de Iquique. Luego en la lámina siguiente inventa un dialogo.

Combate Naval de Iquique

El 21 de mayo es una fiesta para el pueblo de Chile. Ese día conmemoramos el Combate Naval de Iquique, desarrollado en uno de los principales escenarios de la Guerra del Pacífico (1879-1883): el mar.

Esta era la vía fundamental para el traslado de víveres y tropas, y para la continuación del comercio regular entre Chile, Perú y Bolivia, los países en conflicto.

Fue el día en que los hombres de la frágil Esmeralda, comandados por Arturo Prat, dieron su vida por una causa que les parecía justa y necesaria, en un combate muy desigual contra la tripulación del poderoso Huáscar. A su heroísmo, se unió el triunfo de la astucia y habilidad de los marinos de la Covadonga -acertadamente comandada por Carlos Condell-, que permitió inutilizar uno de los dos acorazados peruanos, la Independencia

Inventa un dialogo.

